

Επαναληπτικές Εργασίες

1) Γράψε δίπλα σε κάθε γράμμα το κεφαλαίο του.

_ ε _ α _ τ _ ι _ π _ ρ _ ν _ κ _ ο _ σ ς

2) Διάλεξε και βάλε το σωστό:

η

ι

η Ελέν _

το πατίν _

η Κικ _

το σακ _

η ένεσ _

το κανόν _

το παπάκ _

το κερ _

το αλάτ _

η μέσ _

η κόρ _

η κίνησ _

η νίκ _

το πεπόν _

το σακάκ _

3) Μάντεψε και συμπλήρωσε το γράμμα που λείπει από την αρχή κάθε λέξης και θα διαβάσεις το όνομα ενός αντικειμένου που έχεις στην τσάντα σου.

_εράσι

_λάτι

_αλάτα

_λατο

_έσσερα

_ππότης

_ησί

_έρας

4) Διάβασε τις προτάσεις:

Ρένα, πάρε ένα ποτήρι με νερό.

Έκανα σιρόπι καραμέλας σήμερα.

Ο ρινόκερος έχει ένα κέρατο.

Πέτα το τόπι με τη ρακέτα, Άννα.

Όνομα _____

Υ Υ



Η μαμά, κάθε Κυριακή, μας έλεγε ένα παραμύθι.
Ένα παραμύθι τόσο μαγικό!


Μίλαγε σιγανά σιγανά για παλάτια, για νάνους και
για κακές μάγισσες.

Στο τέλος γελάγαμε με τις ιστορίες της και της
λέγαμε:

- Μαμά, σε αγαπάμε πάρα πολύ!

ΤΥ ΠΥ ΣΥ ΚΥ ΝΥ ΡΥ ΣΤΥ
ΜΥ ΘΥ ΓΥ ΛΥ ΧΥ ΖΥ

τυ πυ συ κυ νυ ρυ στυ
μυ θυ γυ λυ χυ ζυ




ΔΗΜΟΤΙΚΟ ΣΧΟΛΕΙΟ

Όνομα: _____ Τάξη: _____

Ελληνικά Α'

1. Αντιστοιχίζω κάθε εικόνα με τη σωστή γέξη:



ήλιος

αρνάκι



εκκλησία

ιερέας




οδοντόκρεμα





ύφασμα

ώρα



2. Γράφω τη γέξη που ταιριάζει σε κάθε εικόνα:



3. Κυκλώνω τη σωστή πρόταση:

Ο Σωτήρης και η Έλλη πάνε βόλτα.

Η Έλλη και ο Σωτήρης φροντίζουν τα χουχούδια στον κήπο.

Ο Σωτήρης και η Έλλη φροντίζουν τα ζωάκια στα κλουβιά.



4. Ακούω και συμπληρώνω:

..... Σαμπέρ

..... Μαρίνα

το κουτάβ.....

..... σκύλος

..... ζύμ.....

το σαγάμ.....

..... παπαγάλος

..... βροχ.....

το ψωμ.....

το σύννεφ.....

..... ψιγάρα

τα πουχ.....

το κόκκαλ.....

..... μάγ..... s

τα ψάρ.....

το γλυκ.....

..... γαγ..... s


τα σπίτ.....

εγώ αγαπ.....

εγώ διαβάζ.....

εγώ ζέρ.....

5. Σκέφτομαι και γράφω μια όμορφη πρόταση για την εικόνα:



Επανάληψη Πρόσθεση και Αφαίρεση

Όνομα: Τάξη: Ημ/νία:

1. Συμπληρώνω το κουτάκι:

$2 + 8 = \square$ $8 - \square = 2$ $1 + \square = 6$ $0 + 6 = \square$

$6 - 5 = \square$ $\square + 5 = 9$ $6 - \square = 4$ $10 - 0 = \square$



$3 + 6 = \square$ $3 + \square = 10$ $10 - \square = 3$ $1 + 1 + 2 = \square$

$9 - 1 = \square$ $\square + 3 = 5$ $\square - 4 = 4$ $3 + 2 + 1 = \square$

$4 + 4 = \square$ $\square - 3 = 6$ $\square - 6 = 2$ $3 + 3 + 2 = \square$

$8 - 4 = \square$ $\square + 6 = 10$ $5 + \square = 8$ $2 + 2 + 2 = \square$

2. Συμπληρώνω τα σπιτάκια των αριθμών:



3. Λύνω τα προβλήματα:

(Α) Η Μαρία έχει €6. Η μαμά της της έδωσε ακόμα €4. Πόσα χρήματα έχει τώρα η Μαρία;

Μαθηματική πρόταση: _____

Απάντηση: _____

(Β) Ο παππούς είχε 7 μύγα. Έφαγε τα 3 μύγα. Πόσα μύγα έχει τώρα ο παππούς;

Μαθηματική πρόταση: _____

Απάντηση: _____

(Γ) Η Ελένη είναι 5 χρονών. Ο Ρένος είναι 3 χρόνια μικρότερος από την Ελένη. Πόσο χρονών είναι ο Ρένος;

Μαθηματική πρόταση: _____

Απάντηση: _____

4. Συμπληρώνω τους αριθμούς που γείτουν:

6	1			5		2	3		4	
		3	4		6			0		

10	1			4	2	7	10		0	
		8	5					3		

9	2			7	9				0	
		4	6			1	3	8		5

7	0		4	7				6		3
		5			1	3	2		4	

5. Να συμπληρώσεις τους αριθμούς που γέπουν.

