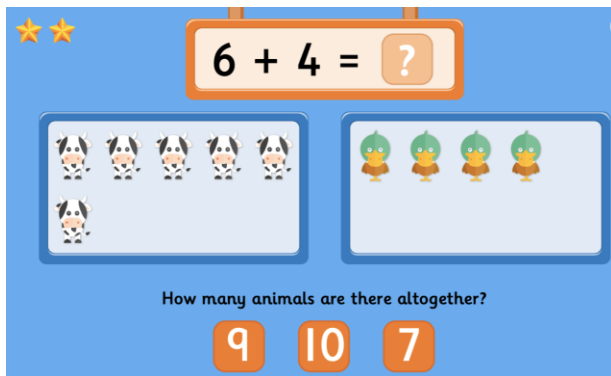


Παιχνίδια Μαθηματικών



★★

$6 + 4 = ?$

How many animals are there altogether?

9 10 7

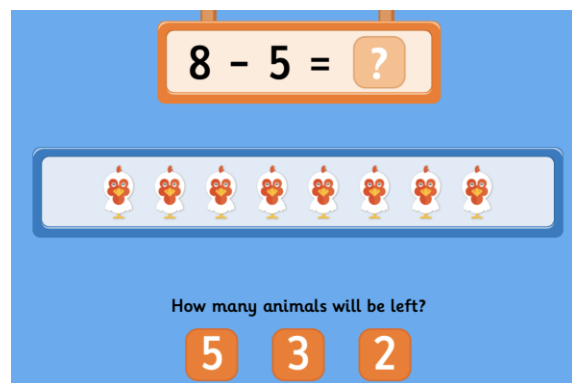
The image shows a math game interface. At the top, there are two stars and a math problem $6 + 4 = ?$. Below the problem, there are two boxes. The left box contains 6 cow icons, and the right box contains 4 bird icons. Below the boxes, the text asks "How many animals are there altogether?". At the bottom, there are three buttons with the numbers 9, 10, and 7.

Επιλέγω το άθροισμα που αντιστοιχεί στη μαθηματική πρόταση πρόσθεσης που παρουσιάζεται.

<https://www.topmarks.co.uk/addition/addition-to-10>

Επιλέγω τη διαφορά που αντιστοιχεί στη μαθηματική πρόταση αφαίρεσης που παρουσιάζεται.

<https://www.topmarks.co.uk/subtraction/subtraction-to-10>



$8 - 5 = ?$

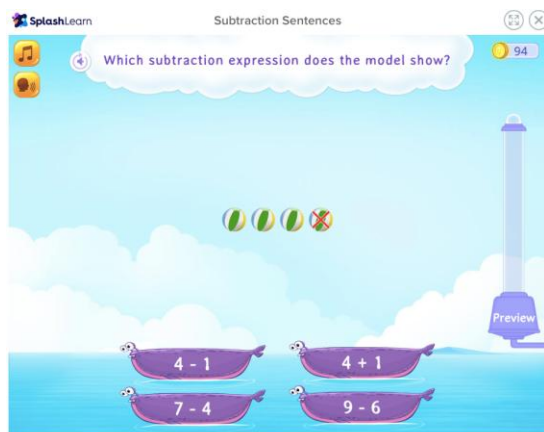
How many animals will be left?

5 3 2

The image shows a math game interface. At the top, there is a math problem $8 - 5 = ?$. Below the problem, there is a box containing 8 chicken icons. Below the box, the text asks "How many animals will be left?". At the bottom, there are three buttons with the numbers 5, 3, and 2.

Επιλέγω τη μαθηματική πρόταση αφαίρεσης που ταιριάζει με την εικόνα.

<https://www.splashlearn.com/addition-games-for-1stgraders?topics=subtraction>



SplashLearn Subtraction Sentences

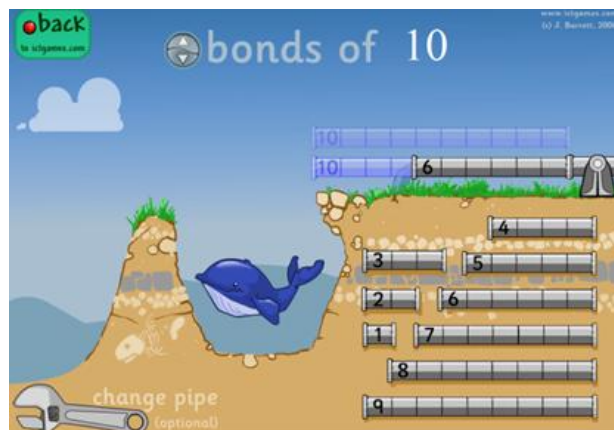
Which subtraction expression does the model show?

4 - 1 4 + 1
7 - 4 9 - 6

The image shows a game interface from SplashLearn. At the top, it says "Subtraction Sentences". Below that, there is a question: "Which subtraction expression does the model show?". There are four options: $4 - 1$, $4 + 1$, $7 - 4$, and $9 - 6$. The first two options are in a boat, and the last two are in another boat. There are also some icons at the top right.

Επιλέγω το κομμάτι του σωλήνα με το κατάλληλο μήκος έτσι ώστε μαζί με το αρχικό κομμάτι σωλήνα να έχουν άθροισμα τον αριθμό που θα διαλέξω.

http://www.ictgames.com/save_the_whale_v4.html



bonds of 10

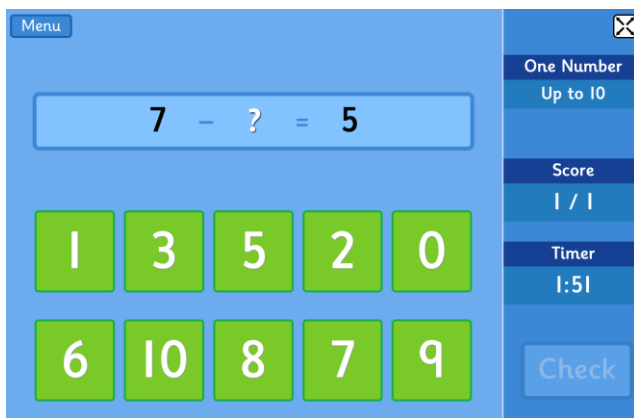
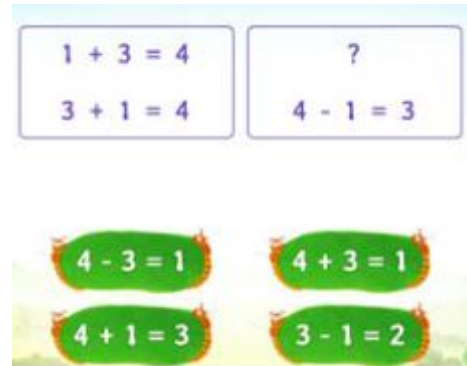
change pipe (optional)

The image shows a game interface from ICT Games. At the top, it says "bonds of 10". Below that, there is a whale in a hole. To the right, there are several pipes of different lengths, each with a number next to it: 4, 5, 6, 7, 8, 9. At the bottom, there is a wrench icon and the text "change pipe (optional)".



Επιλέγω τον προσθετέο που λείπει ώστε να συμπληρωθεί ορθά η μαθηματική πρόταση πρόσθεσης
<https://www.splashlearn.com/addition-games-for-1st-graders?page=2>

Αποφασίζω κατά πόσο οι τέσσερις πράξεις που παρουσιάζονται αποτελούν μια οικογένεια πράξεων.
<https://www.splashlearn.com/addition-games-for-1st-graders>



Επιλέγω να εργαστώ με αριθμούς μέχρι το 10.
 Επιλέγω τον αριθμό που λείπει (μειωτέος ή αφαιρετέος) στις μαθηματικές προτάσεις αφαίρεσης που μου δίνονται.
<https://www.topmarks.co.uk/maths-games/subtraction-grids>

Από την αρχική οθόνη επιλέγω να εργαστώ με αριθμούς μέχρι το 10. Τοποθετώ τις κάρτες με τους αριθμούς και τα σύμβολα της πρόσθεσης και της αφαίρεσης στις μαθηματικές προτάσεις, ώστε να σχηματιστούν οικογένειες πράξεων με τους αριθμούς που δίνονται.
<https://www.topmarks.co.uk/number-facts/number-fact-families>

