


ΠΡΟΒΛΗΜΑΤΑ

1. Κάνε σχέδιο και βρες την απάντηση .


Έχω 5 μπανάνες.

Χάλασαν οι 4.

Πόσες μου έμειναν;



2. Γράψε δικό σου πρόβλημα για την εικόνα.



3. Συμπλήρωσε τα προβλήματα.


Έχω 6 καραμέλες και _____ ακόμα 3.
Πόσες έχω τώρα;

$$6+3= \square$$



Έχω 10 μολύβια και _____ 6 στο διπλανό μου. Πόσα μου έμειναν;

$$10-6= \square$$



Όνομα: _____ Τάξη: _____