

Αριθμοί μέχρι το 100

1. Ανακάλυψε και τα 8 δώρα που είναι κρυμμένα

Από την αρχική οθόνη, επιλέγουμε «up to 99». Πατάμε στον αριθμό που απεικονίζεται με τους κύβους.

https://www.mathplayground.com/place_value_party.html

2. Σώσε τη βάρκα από τους καρχαρίες

Από την αρχική οθόνη, επιλέγουμε «Numbers up to 99».

Στη συνέχεια πατάμε στον αριθμό που απεικονίζεται με κύβους.

Αν είμαστε σωστοί έρχεται ένα δελφίνι. Αν κάνουμε λάθος ο καρχαρίας κόβει ένα κομμάτι από τη βάρκα μας.

<http://ictgames.com/sharkNumbers/mobile/>

3. Παιζουμε καλαθόσφαιρα

Από την αρχική οθόνη, επιλέγουμε την τέταρτη επιλογή (αριθμοί μέχρι το 99).

Επιλέγουμε την μπάλα που δείχνει τον αριθμό που απεικονίζεται με τους κύβους.

Αν η επιλογή μας είναι ορθή, τότε μπαίνει καλάθι. Αν η επιλογή μας είναι λανθασμένη, η μπάλα δεν μπαίνει στο καλάθι και μπορούμε να ξαναδοκιμάσουμε.

<https://www.topmarks.co.uk/learning-to-count/place-value-basketball>

4. Συμπλήρωσε το σώμα της κάμπιας

Από την αρχική οθόνη, επιλέγουμε την δραστηριότητα που θέλουμε. «Ordering» για τυχαίους αριθμούς ή «Sequencing» για αριθμούς στη σειρά.



Στη συνέχεια επιλέγουμε το επίπεδο που θέλουμε να παίξουμε. 0 to 100 ή 100-0 για αριθμούς μέχρι το 100.



Έχουμε και την επιλογή «in tens» για να παίξουμε με δεκάδες.

<https://www.topmarks.co.uk/ordering-and-sequencing/caterpillar-ordering>



Δραστηριότητες



- Συμπληρώνω, όπως στο παράδειγμα



| Δεκάδες | Μονάδες |
|---|---|
|  |  |
| <input style="width: 40px; height: 30px; border: 1px solid black; border-radius: 15px;" type="text" value="2"/> δεκάδες | <input style="width: 40px; height: 30px; border: 1px solid black; border-radius: 15px;" type="text" value="6"/> μονάδες |
| $20 + 6 = 26$ | |
| <input style="width: 60px; height: 30px; border: 1px solid black; border-radius: 15px;" type="text" value="26"/> | |



| Δεκάδες | Μονάδες |
|---|---|
|  |  |
| <input style="width: 40px; height: 30px; border: 1px solid black; border-radius: 15px;" type="text"/> δεκάδες | <input style="width: 40px; height: 30px; border: 1px solid black; border-radius: 15px;" type="text"/> μονάδες |
| <hr style="border: 0.5px solid black;"/> | |
| <input style="width: 60px; height: 30px; border: 1px solid black; border-radius: 15px;" type="text"/> | |



| Δεκάδες | Μονάδες |
|---|---|
|  |  |
| <input style="width: 40px; height: 30px; border: 1px solid black; border-radius: 15px;" type="text"/> δεκάδες | <input style="width: 40px; height: 30px; border: 1px solid black; border-radius: 15px;" type="text"/> μονάδες |
| <hr style="border: 0.5px solid black;"/> | |
| <input style="width: 60px; height: 30px; border: 1px solid black; border-radius: 15px;" type="text"/> | |

| Δεκάδες | Μονάδες |
|---|---|
|  |  |
| <input style="width: 40px; height: 30px; border: 1px solid black; border-radius: 15px;" type="text"/> δεκάδες | <input style="width: 40px; height: 30px; border: 1px solid black; border-radius: 15px;" type="text"/> μονάδες |
| <hr style="border: 0.5px solid black;"/> | |
| <input style="width: 60px; height: 30px; border: 1px solid black; border-radius: 15px;" type="text"/> | |



| Δεκάδες | Μονάδες |
|---|---|
|  |  |
| <input style="width: 40px; height: 30px; border: 1px solid black; border-radius: 15px;" type="text"/> δεκάδες | <input style="width: 40px; height: 30px; border: 1px solid black; border-radius: 15px;" type="text"/> μονάδες |
| <hr style="border: 0.5px solid black;"/> | |
| <input style="width: 60px; height: 30px; border: 1px solid black; border-radius: 15px;" type="text"/> | |

| Δεκάδες | Μονάδες |
|---|---|
|  |  |
| <input style="width: 40px; height: 30px; border: 1px solid black; border-radius: 15px;" type="text"/> δεκάδες | <input style="width: 40px; height: 30px; border: 1px solid black; border-radius: 15px;" type="text"/> μονάδες |
| <hr style="border: 0.5px solid black;"/> | |
| <input style="width: 60px; height: 30px; border: 1px solid black; border-radius: 15px;" type="text"/> | |

| Δεκάδες | Μονάδες |
|---|---|
|  |  |
| <input style="width: 40px; height: 30px; border: 1px solid black; border-radius: 15px;" type="text"/> δεκάδες | <input style="width: 40px; height: 30px; border: 1px solid black; border-radius: 15px;" type="text"/> μονάδες |
| <hr style="border: 0.5px solid black;"/> | |
| <input style="width: 60px; height: 30px; border: 1px solid black; border-radius: 15px;" type="text"/> | |

| Δεκάδες | Μονάδες |
|---|---|
|  |  |
| <input style="width: 40px; height: 30px; border: 1px solid black; border-radius: 15px;" type="text"/> δεκάδες | <input style="width: 40px; height: 30px; border: 1px solid black; border-radius: 15px;" type="text"/> μονάδες |
| <hr style="border: 0.5px solid black;"/> | |
| <input style="width: 60px; height: 30px; border: 1px solid black; border-radius: 15px;" type="text"/> | |

• Στο κατάστημα ρούχων



Αγόρασα ένα παντελόνι και μια φανέλα. Πόσα πλήρωσα;

Μ.Π. _____


Απάντηση: _____



Αγόρασα ένα φόρεμα και μια φούστα. Πόσα πλήρωσα;

Μ.Π. _____

Απάντηση: _____



Είχα €25. Αγόρασα ένα ζευγάρι κάλτσες. Πόσα χρήματα μου έμειναν;

Μ.Π. _____

Απάντηση: _____



Είχα €39. Αγόρασα ένα φόρεμα. Πόσα χρήματα μου έμειναν;

Μ.Π. _____

Απάντηση: _____

Πόσο πιο ακριβό είναι το πουκάμισο από την μπλούζα;

Απάντηση: _____

Πόσο πιο φθηνή είναι η φανέλα από το πουκάμισο;

Απάντηση: _____
