

ΟΝΟΜΑ: _____ ΤΜΗΜΑ: _____


Πράξεις μέχρι το 20 (επανάληψη)

1. Γράψε το όνομα του κάθε αριθμού δίπλα

15 _____

19 _____

20 _____



10 _____

13 _____


19 _____

2. Γράψε τον αριθμό δίπλα από το όνομα του

δεκαεπτά _____

δεκαοκτώ _____

πέντε _____



δεκαπέντε _____

δεκατέσσερα _____

έντεκα _____

3. Συμπλήρωσε τις πιο κάτω αριθμόγραμμές. Προσέξτε τα μοτίβα

2, 4, 6, _____, _____, _____, _____, _____, _____

4, 7, 10, _____, _____, _____

6, 10, _____, _____,

2, 7, _____, _____, _____

19, 17, 15, _____, _____, _____, _____, _____

18, 15, 12, _____, _____, _____, _____

20, 17, 14, _____, _____, _____, _____

17, 15, _____, _____, _____, _____, _____, _____



4. Κάνε ότι σου λένε οι οδηγίες. Κάθε φορά να ξεκινάς από τον αρχικό αριθμό.

16

- ↗ Πρόσθεσε 4 = _____
- ↗ Αφαίρεσε 13 = _____
- Διαίρεσε με το 4 = _____
- ↘ Αφαίρεσε 5 = _____
- ↘ Πρόσθεσε 3 = _____

5

- ↗ Πρόσθεσε 12 = _____
- ↗ Πολλαπλασίασε με 4 = _____
- Πρόσθεσε 6 = _____
- ↘ Αφαίρεσε 3 = _____
- ↘ Πολλαπλασίασε με 3 = _____

5. Λύσε τις πιο κάτω πράξεις

$9+5=$

$12+4=$

$5+13=$

$6+7=$

$14-6=$

$17-3=$

$15-12=$

$19-7=$

$4 \times 5=$

$6 \times 3=$

$8 \times 2=$

$3 \times 3=$

$14:2=$

$20:5=$

$18:3=$

$15:5=$

$7+8=$

$11+5=$

$19+1=$

$9+4=$

$12-8=$

$18-4=$

$19-17=$

$14-7=$

$2 \times 4=$

$9 \times 2=$

$4 \times 0=$


$20 \times 1=$

$8:8=$

$16:8=$

$12:4=$

$9:1=$



6. Σύγκρινε τις πιο κάτω πράξεις χρησιμοποιώντας τα σύμβολα (<, >, =)

$3+3$ _____ $17-11$

$20-14$ _____ $8:1$

$6+5$ _____ 3×5

$8+7$ _____ 3×5

$18:6$ _____ $19-12$

$9+4$ _____ $8+5$

$13+4$ _____ 9×2

3×3 _____ $10+8$

10×2 _____ $15+4$

$17-4$ _____ 4×4



7. Βάλε το σύμβολο (+, -, ×, :) που λείπει στις πιο κάτω πράξεις

15 ___ $5=20$

4 ___ $3=12$

16 ___ $8=8$

20 ___ $4=16$

14 ___ $6=8$

3 ___ $2=6$

12 ___ $4=16$

10 ___ $2=20$

16 ___ $2=8$

4 ___ $2=2$

12 ___ $3=4$

18 ___ $2=9$



8. Συμπλήρωσε τις πιο κάτω εξισώσεις με τον αριθμό που λείπει

19 - ___ = 2

17 - ___ = 2

11 - ___ = 1

3 + ___ = 12

8 + ___ = 13

20 : ___ = 4

16 : ___ = 4

12 : ___ = 6

15 : ___ = 3

10 : ___ = 2

$6 \times$ ___ = 18

___ $\times 5=10$

$2 \times$ ___ = 6

10 + ___ = 16

17 - ___ = 11

12 - ___ = 11

13 - ___ = 0

5 + ___ = 18

7 + ___ = 19

7 + ___ = 11

$4 \times$ ___ = 16

___ $\times 4=20$

___ $\times 2=16$

___ $\times 6=18$

$6 \times$ ___ = 6