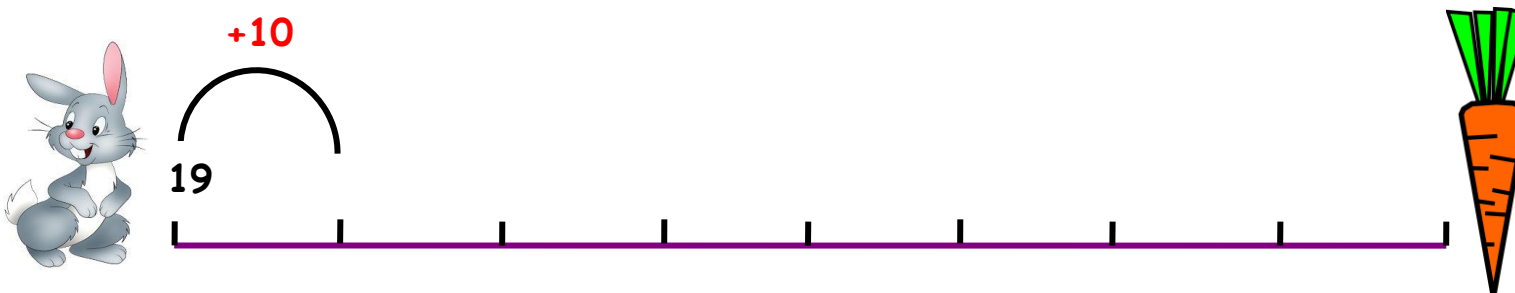
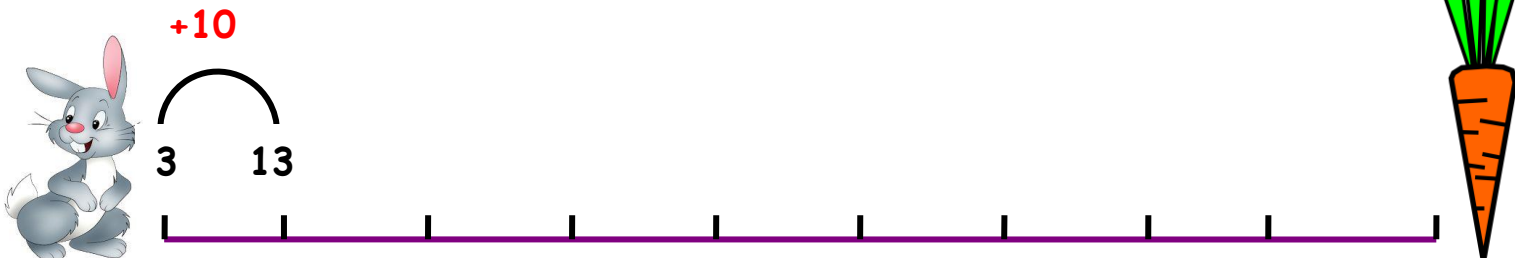


ΟΝΟΜΑ: _____


ΜΑΘΗΜΑΤΙΚΑ 1^η ΕΝΟΤΗΤΑ

Κεφ. 6: Βρίσκω την αξία των ψηφίων στους διψήφιους αριθμούς 2

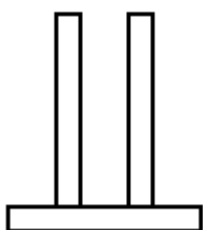
1. Ο λαγός πηδάει 10-10. Βοήθησε τον να πιάσει το καρότο.



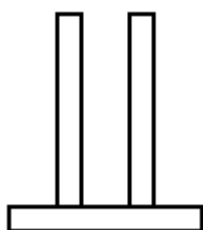
2. Τώρα βοήθησε τον να γυρίσει πίσω. Θυμήσου πηδάει 10-10.



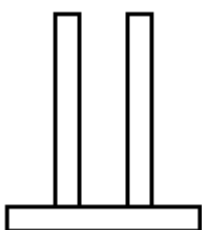
3. Συμπληρώνω τους παρακάτω άβακες.



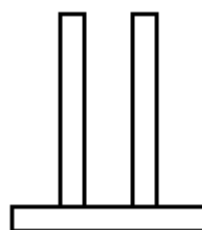
19



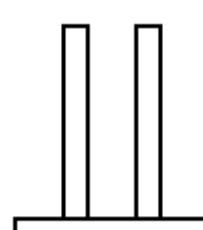
52



36



44



20

4. Βρίσκω ποιος είναι ο αριθμός κάθε φορά.

4 Δ και 5 Μ: _____

9 Δ και 4 Μ : _____

3 Δ και 9 Μ : _____

5 Δ και 6 Μ : _____

1 Δ και 3 Μ : _____

2 Δ και 1 Μ : _____

Θυμάμαι:

Όταν λέμε το όνομα ενός διψήφιου αριθμού πρώτα ακούγονται οι Δεκάδες και μετά οι Μονάδες.

Π.χ. 9 Δ και 3 Μ είναι ο αριθμός 93



5. Συμπληρώνω τον πίνακα με τους αριθμούς από το 1 ως το 100.

1	2	3	4	5					
11	12								
21									

1. Βάφω με κίτρινη ξυλομπογιά όλους τους αριθμούς που έχουν το 7 στις Δεκάδες.

2. Βάφω με πορτοκαλί ξυλομπογιά όλους τους αριθμούς που έχουν το 2 στις Δεκάδες.

3. Βάφω με κόκκινη ξυλομπογιά όλους τους αριθμούς που έχουν το 5 στις Μονάδες.

4. Βάφω με μπλε ξυλομπογιά όλους τους αριθμούς που έχουν το 8 στις Μονάδες.