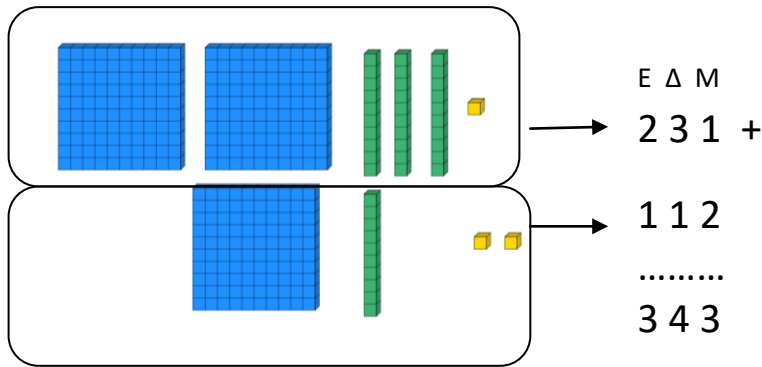


Τριψήφια πρόσθεση

Δες προσεκτικά το παράδειγμα:



Ε Δ Μ
+ Ε Δ Μ



1. Λύσε τις ασκήσεις:

$$\begin{array}{r} 1) \quad 254 \\ + 643 \\ \hline \end{array}$$

$$\begin{array}{r} 2) \quad 521 \\ + 151 \\ \hline \end{array}$$

$$\begin{array}{r} 3) \quad 147 \\ + 440 \\ \hline \end{array}$$

$$\begin{array}{r} 4) \quad 692 \\ + 201 \\ \hline \end{array}$$

$$\begin{array}{r} 5) \quad 151 \\ + 723 \\ \hline \end{array}$$

$$\begin{array}{r} 6) \quad 213 \\ + 644 \\ \hline \end{array}$$

$$\begin{array}{r} 7) \quad 254 \\ + 413 \\ \hline \end{array}$$

$$\begin{array}{r} 8) \quad 145 \\ + 622 \\ \hline \end{array}$$

$$\begin{array}{r} 9) \quad 477 \\ + 322 \\ \hline \end{array}$$

$$\begin{array}{r} 10) \quad 627 \\ + 170 \\ \hline \end{array}$$

$$\begin{array}{r} 11) \quad 506 \\ + 211 \\ \hline \end{array}$$

$$\begin{array}{r} 12) \quad 120 \\ + 465 \\ \hline \end{array}$$

ΠΡΟΣΟΧΗ! Αν το άθροισμα είναι μεγαλύτερο από το 10 τότε δεν μπορούμε να γράψουμε δύο ψηφία σε μια θέση, άρα έχουμε κρατούμενο. Για δείτε το παράδειγμα!

$$\begin{array}{r} 1 \\ 724 \\ + 239 \\ \hline 963 \end{array}$$

2. Λύσε τις ασκήσεις και πρόσεξε τα κρατούμενα:

$$\begin{array}{r} 1 \\ 246 \\ + 483 \\ \hline 729 \end{array}$$

$$\begin{array}{r} 509 \\ + 287 \\ \hline \end{array}$$

$$\begin{array}{r} 452 \\ + 356 \\ \hline \end{array}$$

$$\begin{array}{r} 225 \\ + 846 \\ \hline \end{array}$$

$$\begin{array}{r} 349 \\ + 375 \\ \hline \end{array}$$

$$\begin{array}{r} 463 \\ + 472 \\ \hline \end{array}$$


$$\begin{array}{r} 487 \\ + 357 \\ \hline \end{array}$$

$$\begin{array}{r} 225 \\ + 292 \\ \hline \end{array}$$

$$\begin{array}{r} 597 \\ + 290 \\ \hline \end{array}$$


$$\begin{array}{r} 326 \\ + 448 \\ \hline \end{array}$$

$$\begin{array}{r} 439 \\ + 329 \\ \hline \end{array}$$






3. Λύσε τα προβλήματα:

1. Ένας φρουτοπαραγωγός έκοψε 350 κιλά μήλα και 135 κιλά αχλάδια. Πόσα κιλά φρούτα έκοψε;




Απάντηση :.....

2. Η Κατερίνα είχε στον κουμπαρά της 150 €. Η μητέρα της έδωσε ακόμη 134€ για να αγοράσει ένα καινούριο ποδήλατο. Πόσα χρήματα στοίχιζε το ποδήλατο;



Απάντηση :.....

3. Σε ένα καράβι μπήκαν 363 ενήλικες και 248 παιδιά. Πόσοι ήταν όλοι οι επιβάτες;



Απάντηση :.....